

Prova le
ATTIVITÀ

Esercizi tratti
dal libro:


**DISFAPROBLEMI
CON LE
PROPORZIONI**

SCOPRI IL LIBRO →




Erickson

Bottiglie



2 bottiglie costano 16 euro.

Quanto costano 6 bottiglie?



Cerchia il risultato esatto:

24 48 128

Yogurt




yogurt

euro



20 yogurt costano 12 euro.

Quanto costano 60 yogurt?



Cerchia il risultato esatto:

30 48 36

Pellet




kg

giorni



Una stufa consuma due pacchi di pellet da 14 kg l'uno alla settimana.

Quanti kg consuma in 30 giorni?



Cerchia il risultato esatto:

140 120 210

Pavimento




mattonelle

area mattonella



Per pavimentare una stanza occorrono 80 mattonelle che misurano 625 cm^2 l'una.

Se si usano mattonelle da 1000 cm^2 , quante ne servono?



Cerchia il risultato esatto:

50 70 125

Numeri frazionari

$$1 \text{ e } \frac{1}{2}$$



.....

$$1 \text{ e } \frac{1}{4}$$



.....

$$2 \text{ e } \frac{1}{4}$$



.....

$$2 \text{ e } \frac{1}{5}$$



.....

$$2 \text{ e } \frac{1}{10}$$



.....

$$2 \text{ e } \frac{1}{100}$$



.....

$$4 \text{ e } \frac{1}{4}$$



.....

$$4 \text{ e } \frac{1}{5}$$



.....

$$4 \text{ e } \frac{1}{20}$$



.....

Trasforma in numero decimale.