

Prova le  
**ATTIVITÀ**

Esercizi tratti  
dal libro:

**MISTERI  
DALLA STORIA**

Missione antica Grecia

**Classe 5<sup>a</sup>**

SCOPRI IL LIBRO →

Scopri anche gli altri  
volumi della serie



Erickson

CHE GIORNATA UGGIOSA! PIOVE A DIROTTO, E GAIA E TULA HANNO PENSATO BENE DI ANDARE NELLO STUDIO DELLO ZIO PIERO PER COMBATTERE LA NOIA...



LO STUDIO  
DELLO ZIO PIERO È IL  
LUOGO IDEALE PER  
UNA GIORNATA COME  
QUESTA: VEDRAI  
TULA...

... TROVEREMO  
SICURAMENTE QUALCOSA  
DI INTERESSANTE  
FRUGANDO FRA I REPERTI  
STORICI COLLEZIONATI  
DALLO ZIO DURANTE  
LE SUE SPEDIZIONI  
ARCHEOLOGICHE!



QUESTA  
DEV'ESSERE TUTTA  
LA SUA RACCOLTA  
SUGLI SCAVI IN  
GRECIA...

La storia  
dell'Antica Grecia

TULA!  
COS'È  
QUESTO?!?

LO ZIO  
HA TRADOTTO  
QUESTA  
ISCRIZIONE,  
E...




SE I PANNI DI UN ANTICO ATLETA VUOI  
INDOSSARE, CORRENDO INDIETRO NEL  
TEMPO DEVI ANDARE. NELL'ANTICA  
GRECIA DEVI APPRODARE E UN LUOGO  
SACRO DEVI CERCARE.  
LE PORTE DI OLIMPIA DEVI VARCARE  
E AL COSPETTO DI ZEUS DEVI ARRIVARE.


... SI  
VEDONO  
ANCORA  
I DISEGNI!!

**CRRAAAK**

CHE SPAVENTO!  
CHE STA SUCCEDENDO?!?



CAPPERI,  
MI SA CHE L'ABBIAMO  
COMBINATA GROSSA...  
DOVE SIAMO  
FINITE???



PER ZEUS!  
E VOI DA DOVE  
SBUCATE?!?

# A CACCIA DEL PRIMO INDIZIO

Le offerte per Zeus



Ogni città ha inviato la propria delegazione a Olimpia con i doni per Zeus. La ricchezza delle offerte contribuisce ad accrescere la fama e la gloria della città. I tesori vengono collocati in appositi templi, che via via si arricchiscono di oggetti preziosi.

## 1<sup>A</sup> PROVA

I rappresentanti della città di Mileto arrivano a Olimpia carichi di doni: portano anfore, vasi, piatti e vassoi, e li dispongono con un certo ordine nel tempio. Disegna la quarta sequenza.



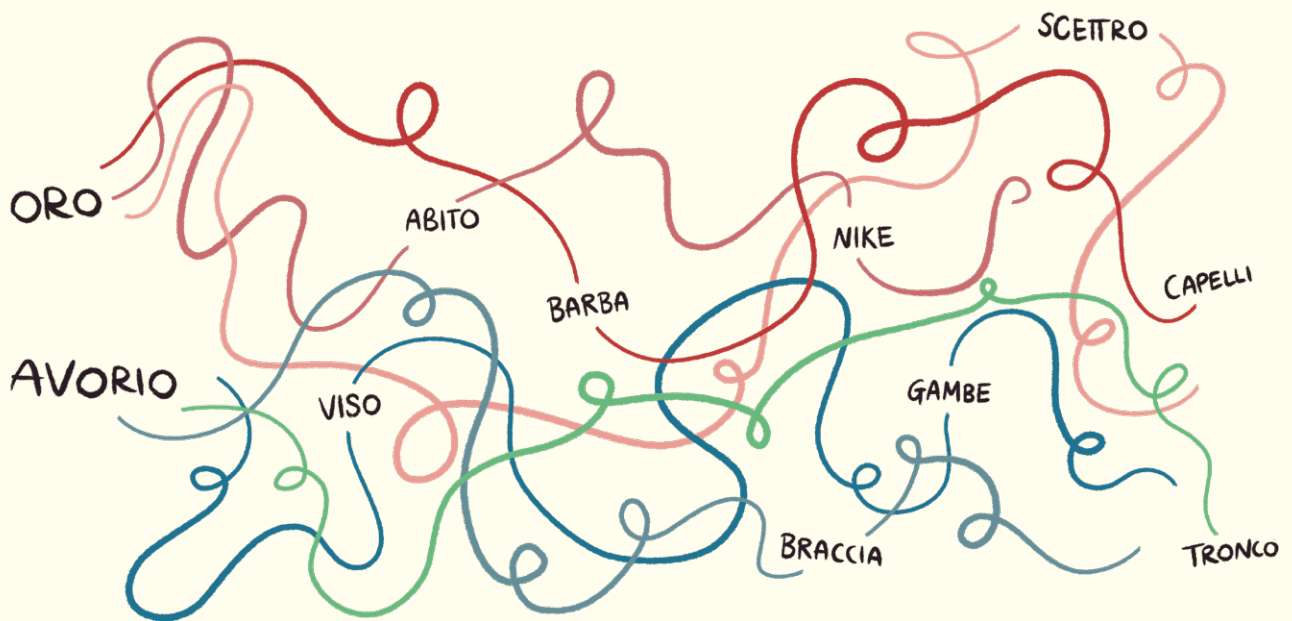
Quale oggetto andrà inserito nella casella colorata?

\_\_\_\_\_



## 2<sup>A</sup> PROVA

Per realizzare la statua di Zeus, Fidia ha usato ebano, avorio, bronzo e oro. Segui i percorsi e scopri quali parti ha realizzato in oro e quali in avorio.



Lamina d'oro:

---

Avorio:

---

Quale materiale è usato per più parti?

---





# 1<sup>A</sup> PROVA

Disegna seguendo le indicazioni.

	A	B	C	D	E
1					
2					
3					

Partendo dal punto di incontro delle coordinate B1, spostati:

- 1 quadretto verso il basso
- 1 quadretto verso il basso e a destra in diagonale
- 1 quadretto verso destra
- 1 quadretto verso l'alto e destra in diagonale
- 1 quadretto verso l'alto
- 1 quadretto verso l'alto e a sinistra in diagonale
- 1 quadretto verso sinistra
- 1 quadretto verso sinistra e in diagonale verso il basso.

Hai disegnato una \_\_\_\_\_; trova un sinonimo tra le prove di

Eracle: \_\_\_\_\_.

# 2<sup>A</sup> PROVA

A simbolo uguale corrisponde lettera uguale. Decifra le parole in codice!

BRILLANO  
IN CIELO.  
SONO LE...

●	✦	☀	□	□	☀

Cambia una lettera:  
SONO CAPANNE PER ANIMALI  
DA ALLEVAMENTO.

●	✦	▲	□	□	☀

Leggi le fatiche di Eracle: a chi appartenevano?

# 3<sup>A</sup> PROVA

Scrivi quali animali incontra Eracle nelle sue fatiche!

---



---

In quante delle dodici fatiche  
compaiono?

---