

Prova le  
**ATTIVITÀ**

Esercizi tratti  
dal libro:

**I compiti vanno  
in vacanza 3**

Il Disfalibro  
di classe quarta

SCOPRI IL LIBRO →

Scopri anche gli altri  
volumi della serie



Erickson

## Risolvi

1.

**Esempio**  $7 \times 7 = 49$

$\dots \times \dots = 625$

$\dots \times \dots = 841$

- Trova i 2 fattori uguali con la calcolatrice



2.

**Esempio**  $3,5 \times 3,5 = 12,25$

$\dots \times \dots = 20,25$

$\dots \times \dots = 228,01$

- Trova i 2 fattori decimali uguali



3.

**Esempio**  $3 \times 3 \times 3 = 27$

$\dots \times \dots \times \dots = 216$

$\dots \times \dots \times \dots = 1331$

- Trova i 3 fattori uguali



4.

**Esempio**  $20 \times 20 = 400$

Area  
400  
cm<sup>2</sup>

$\dots \times \dots = 484$

Area  
484  
cm<sup>2</sup>

$\dots \times \dots = 625$

Area  
625  
cm<sup>2</sup>

- Trova la misura del lato dei seguenti quadrati con il tasto segreto



## Read about Giulio, then write about yourself

---

Hello! My name is Giulio, I'm nine.

I've got brown hair and brown eyes.

I live in the country with my family. We have a big house.

I've got a sister, her name is Anna, she's eight.

My best friend's name is Anita, she's got red hair and blue eyes.

I've got two pets: a dog, Fido and a cat, Luna.

My favourite food is pizza and my favourite subject is Maths.

I like playing with my friends.

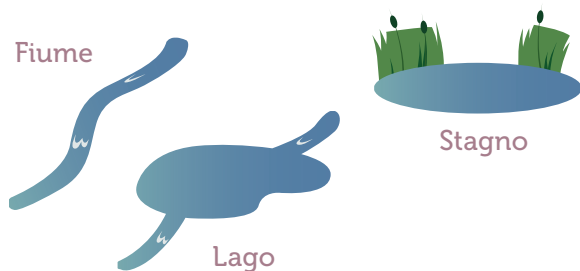
### What about you?

1. My name is ..... , I'm .....
2. I've got ..... and .....
3. I live ..... with ..... We have a .....
4. I've got ..... sister(s) and ..... brother(s).
5. My best friend's ..... is .....
6. He/she's got ..... and .....
7. I've got ..... pets: .....
8. My favourite food is ..... and my favourite subject is .....
9. I like .....

---

### 1. Leggi l'identikit e cerchia l'ambiente esatto.

- È presente l'acqua dolce
- Ci volano le libellule
- La trota non può viverci
- L'acqua è ferma



---

### 3. Leggi l'identikit e cerchia l'ambiente esatto.

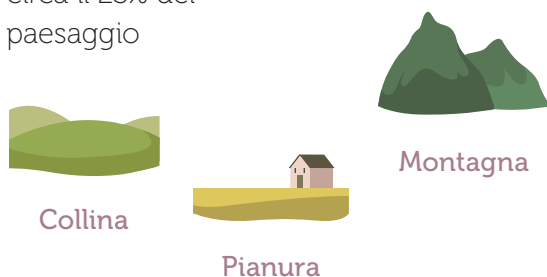
- Ci vivono muschi e licheni
- È spesso roccioso
- C'è meno ossigeno nell'aria
- Ci vivono gli stambecchi



---

### 5. Leggi l'identikit e cerchia l'ambiente esatto.

- È molto antropizzata
- In Italia ricopre circa il 23% del paesaggio
- La più grande è stata formata dal fiume Po



---

### 2. Leggi l'identikit e cerchia la pianta esatta.

- È una latifoglia
- È molto coltivato nel Trentino
- Si riproduce attraverso semi
- È un'angiosperma, ha cioè semi racchiusi in un frutto



---

### 4. Leggi l'identikit e cerchia la pianta esatta.

- Ha le foglie ad ago
- Si trova in montagna
- Con il suo legno si costruiscono strumenti musicali
- È una gimnosperma, ha cioè i semi racchiusi in una pigna



---

### 6. Leggi l'identikit e cerchia la pianta esatta.

- È una latifoglia
- In primavera si copre di fiori bianchi
- Il suo frutto è una drupa rossa
- Una sua varietà coltivata produce i duroni

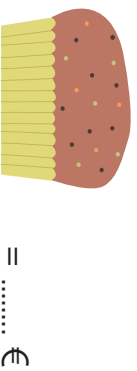


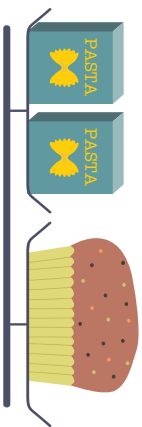


SUDOKU PROBLEMI – Convienere scrivere i prezzi in ogni prodotto



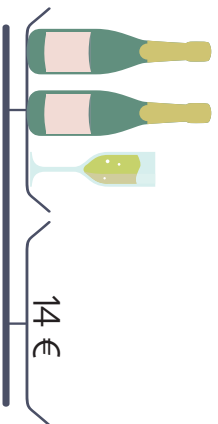
SUDOKU PROBLEMI – Pensa a quante tazzine corrispondono due bottiglie

SUDOKU PROBLEMI – Confronta la prima e la sesta riga

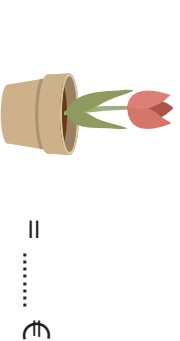



SUDOKU PROBLEMI



Cerchia il risultato: 3,5€ 2€ 1,5€



Cerchia il risultato: 4€ 6€ 5€



Cerchia il risultato: 12€ 14€ 18€



Cerchia il risultato: 5€ 8€ 10€



SUDOKU – In questi giochi non devi faticare con il calcolo. Si tratta solo di aggiungere i numeri che mancano, per ogni colonna, per ogni riga o per ogni riquadro. Il segreto è cominciare con le righe, con le colonne o con i riquadri più pieni.

	2		4		1
1		4			5
4		3		5	2
	1	2	3	4	
2		6	5	1	3
	5	1	6		4

6	2		4	5	1
	1	5	2		3
1		2	3		5
	5		1	2	6
2			5		
5	4	1		3	



1	4	5	2	6	
6		3	4	5	
2	6	4	3		
	3		6		4
3		6			2
4	5		1		6

1		2	5		6
	4			3	
3			2	1	
	1	5		6	
6	5		3	2	
	2			5	1

	5		1		6
1		3	5		4
	2			4	1
4		1	6		
	1	2			5
6			2		3

	5				2
2		1	3	5	
1		2	5		6
	3				1
6		5	1	4	
	1	4	2		