

Prova le
ATTIVITÀ

Esercizi tratti
dal libro:

**Pronti, attenti,
invalsi!**
Matematica 2

Scuola primaria

SCOPRI IL LIBRO →



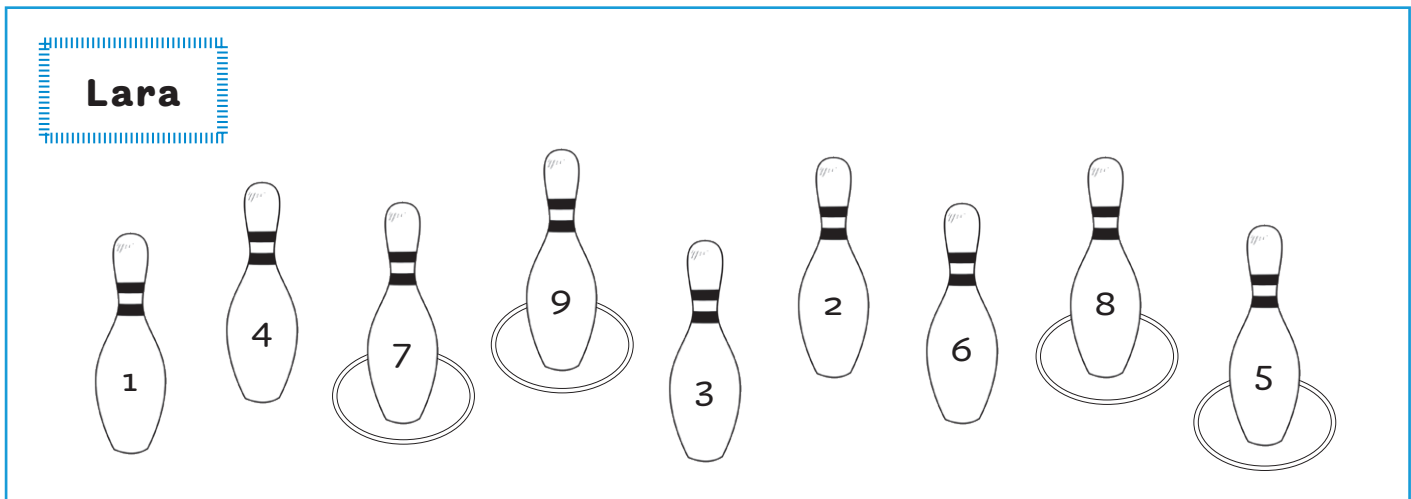
Erickson

Al luna park (1ª parte)



Utilizza sempre le informazioni presenti nel disegno e nel testo.

D1. Al luna park Lara e Matteo lanciano i cerchi. Osserva i lanci di Lara e rispondi.



Quanti punti ha fatto Lara?

- A. 4 B. 29 C. 21

Quale operazione hai eseguito?

- A. $1 + 1 + 1 + 1$
 B. $7 + 9 + 8 + 5$
 C. $7 + 9 + 5$



In classe



Leggi con attenzione i testi e prova a immaginare la scena. Se vuoi, disegnalala.

D1. La maestra ha un pacchetto di adesivi da regalare in parti uguali ai suoi alunni e alle sue alunne.

Che cosa deve fare?

- A. Distribuire un po' di adesivi a testa
- B. Distribuire gli adesivi in modo che tutti gli alunni e le alunne ne abbiano lo stesso numero
- C. Regalare tutti gli adesivi all'alunno più alto

D2. La maestra vuole premiare la squadra che ha vinto i giochi matematici distribuendo 3 matite a ogni partecipante.

Che cosa deve fare per sapere quante matite le occorrono in tutto?

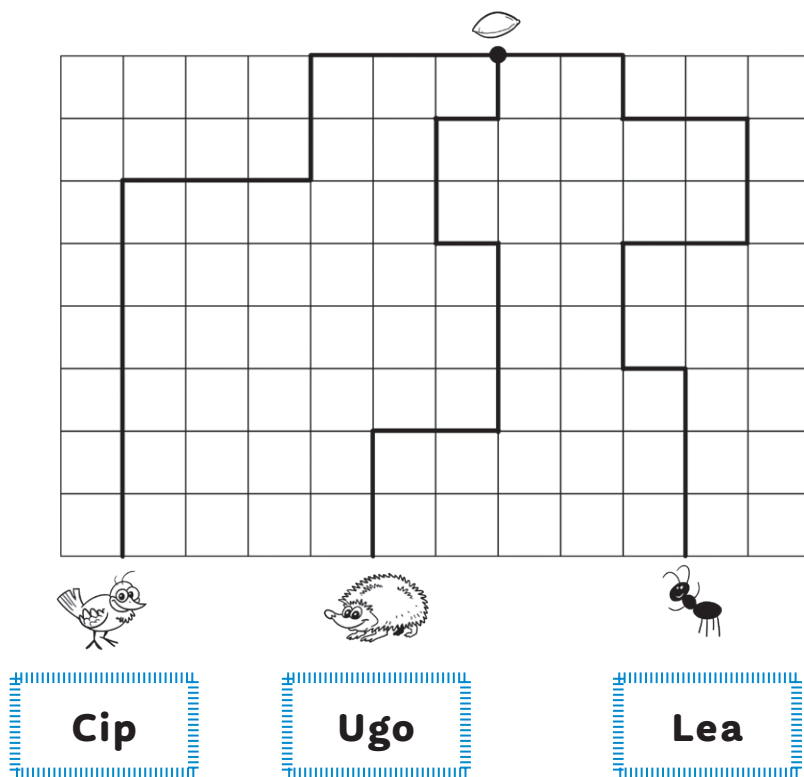
- A. Contare le alunne e gli alunni della squadra vincitrice
- B. Preparare tante matite quanti sono gli alunni e le alunne della classe
- C. Contare quanti sono gli alunni e le alunne della squadra vincitrice e moltiplicare per 3.



Risolvere problemi e argomentare.

Giardini fantastici

D1. Nel giardino tre animaletti vogliono raccogliere lo stesso chicco di grano. Ognuno di loro segue un percorso diverso. Ogni passo vale un .



Cip



Ugo



Lea

Chi ha compiuto il percorso più breve?

- A. Cip B. Ugo C. Lea

Chi ha compiuto il percorso più lungo?

- A. Cip B. Ugo C. Lea



Osserva e conta con attenzione i passi compiuti da ogni animaletto.



Conoscere e risolvere problemi.

Aguzza la mente

D1. Emma ha chiesto ai suoi compagni e alle sue compagne quale è il loro primo piatto e il loro secondo piatto preferito. Poi ha scritto alcuni nomi nella tabella. Osserva.

	Risotto	Pastasciutta
Pollo	Anna, Giorgio	Fabio, Luisa, Eva
Hamburger	Elena	Mauro, Filippo

Quanti preferiscono il risotto?

- A. 1 B. 3 C. 2

Quanti amano il pollo?

- A. 2 B. 3 C. 5

Quanti hanno scelto pastasciutta e hamburger?

- A. 1 B. 2 C. 3

Giulia adora il risotto, ma detesta il pollo: in quale casella scriveresti il nome di Giulia? Inserisci una crocetta nella casella giusta.



D9. Leggi i fumetti.

lo ho speso 25 euro.

lo ho speso 20 euro.

lo ho speso 19 euro.

La mia spesa è maggiore di quella di Mario e minore di quella di Carla.

Carla

Mario

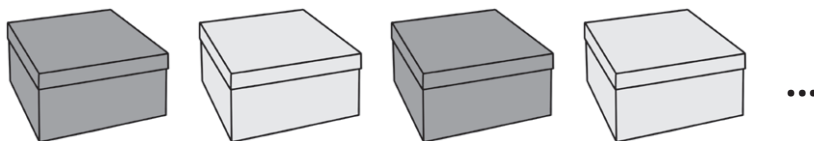
Filippo

Marta

Osserva le operazioni e scrivi il nome di chi ha fatto quella spesa.

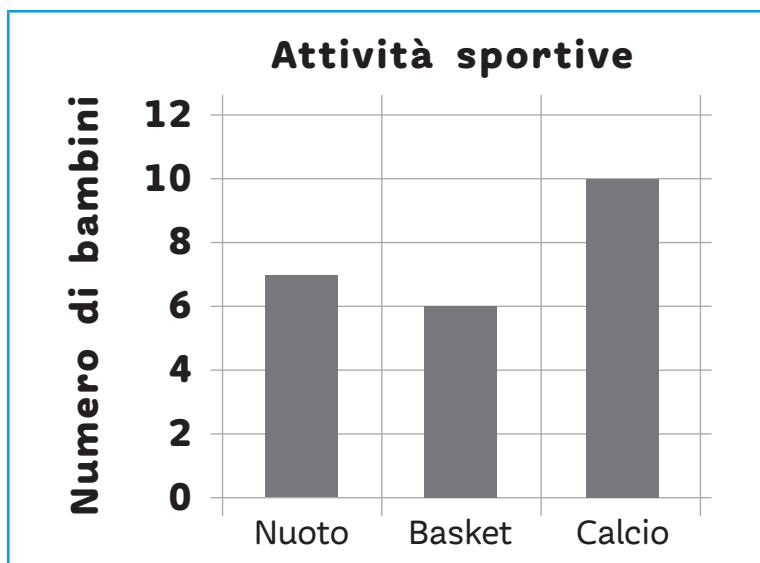
Operazione	Nome
$15 + 7$	
$9 \times 2 + 1$	
5×5	
$27 - 7$	

D24. Gioia colora 30 scatoline. Colora la prima di rosso, la seconda di giallo, la terza di rosso, la quarta di giallo e così via.



- a) Di che colore sarà la decima scatola? _____
- b) La diciannovesima? _____
- c) Saranno di più le scatole rosse o quelle gialle? _____

D25. Tutti i bambini della 2^a hanno scelto quale sport praticare a scuola. Il grafico rappresenta le loro scelte.



- a) Quanti hanno scelto il nuoto? _____
- b) Quanti hanno scelto il basket? _____
- c) Quanti sono in totale i bambini e le bambine della 2^a?

- A. 10
- B. 23
- C. 21