

Prova le
ATTIVITÀ

Esercizi tratti
dal libro:

GOL!
Giochi matematici
per fuoriclasse

SCOPRI IL LIBRO →



Erickson



Rigori & numeri

Vero o falso? Cerchia la lettera e trova la parola.

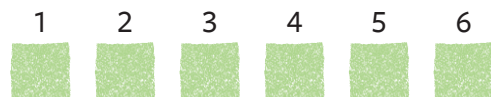
Di 100 rigori, finiscono:



		Vero	Falso
1	La maggior parte dei rigori viene tirata in basso a destra.	C	R
2	Il minor numero di rigori viene tirato in alto al centro.	G	O
3	Il numero di tiri in alto a sinistra è il doppio di quelli in alto a destra.	R	I
4	In basso a sinistra finisce la metà dei tiri rispetto a quelli in basso a destra.	N	N
5	Vengono tirati meno rigori a destra che a sinistra.	T	E
6	Vengono tirati più rigori in alto che in basso.	A	R

Soluzione

Dalla bandierina...







Rimessa laterale

Chi tira i rigori nella tua squadra del cuore?



Riscaldamento a circuito

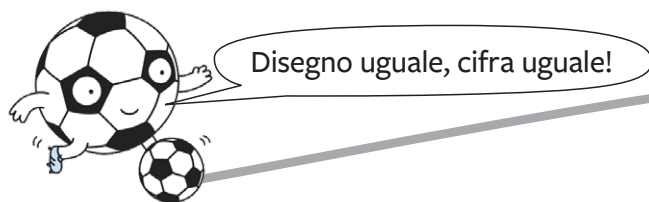
Cominciamo ad allenarci: queste moltiplicazioni e divisioni sono legate tra di loro. Le cifre, però, sono state sostituite da disegni: riesci a ricostruirle?

1  ×  =  

7 × 7 = 4 9







2  ×  =  

4 × =

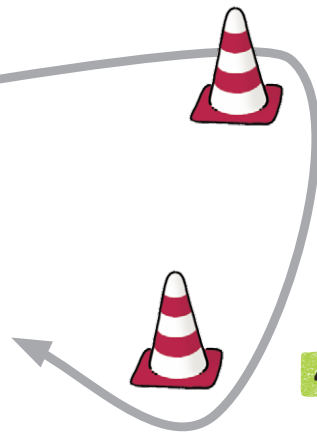


3  ×  =  

× =

6   ×  =   

× =












4  ×  =  

× =

5  ×  =  

× =

									
7	4								

Corner: Firma qui

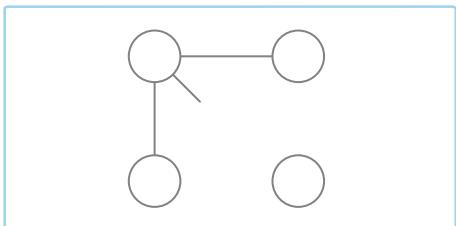
Quando Messi aveva tredici anni, il direttore sportivo del Barcellona rimase talmente impressionato dal suo talento che, per non farselo scappare, gli fece firmare un contratto sulla prima cosa che gli capitò tra le mani: un tovagliolo!



Batti il 5!

Cosa succede quando più bambini e bambine si danno il 5?

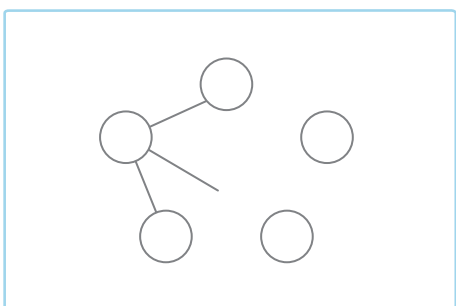
1 Quattro bambini si danno il 5.



Con 4 bambini ci sono _____ saluti.

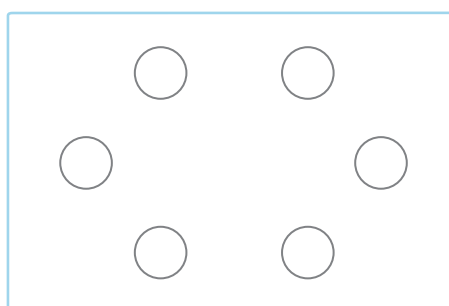


2 E se fossero in 5?



Con 5 bambini ci sono _____ saluti.

3 E in 6?



Con 6 bambini ci sono _____ saluti.

4 E tra 11 giocatori e giocatrici?



Cosa succede se tutti in una squadra di calcio si danno il 5?

Numero dei giocatori	2	3	4	5	6	7	8	9	10	11
Numero dei saluti	1	3	6							

Variazione
+2
+3
+
+
+
+
+
+
+

Con 11 giocatori e giocatrici ci sono in tutto _____ saluti.

Rimessa laterale

Chi è il giocatore o la giocatrice con cui ti vorresti allenare?





Calcola per ogni squadra la differenza reti.

	Squadra	G	Risultati			Gol			Punti
			V	N	P	GF	GS	DR	
1.	Napoli	38	28	6	4	77	28	49	90
2.	Lazio	38	22	8	8	60	30		74
3.	Inter	38	23	3	12	71	42		72
4.	Milan	38	20	10	8	64	43		70
5.	Atalanta	38	19	7	12	66	48		64
15.	Salernitana	38	9	15	14	48	62		42
16.	Lecce	38	8	12	18	33	46		36
17.	Verona	38	7	10	21	31	59		31
18.	Spezia	38	6	13	19	31	62		31
19.	Cremonese	38	5	12	21	36	69		27
20.	Sampdoria	38	3	10	25	24	71		19

Due squadre con gli stessi punti! Guardiamo meglio...



Ragioniamo un po': è meglio -28 oppure -31?

Rimessa laterale

Cosa succede in campionato se due squadre hanno gli stessi punti?

