

Valeria Razzini

PROBLEMI MOSTRUOSI

3

ALL'HOTEL
DE TENEBRIS

L'amuleto
della Luna
Piena



Erickson

È sparito **il prezioso amuleto della Contessa Lada**. Chi lo avrà rubato? Aiuta Ombretta e Lupo a scoprire il colpevole del furto: trova gli indizi. Ispeziona per bene le sale dell'**Hotel De Tenebris** e restituisci alla **Contessa** il suo gioiello. In questa terrificante avventura, dovrai risolvere problemi matematici di consolidamento e ripasso sugli argomenti di classe terza:



- ▶ **Letture, scrittura e confronto numeri fino a 10.000**
- ▶ **Le proprietà delle quattro operazioni**
- ▶ **Le tabelline**
- ▶ **Problemi con dati mancanti o dati inutili**
- ▶ **Punti, linee, segmenti, rette e semirette**
- ▶ **Caratteristiche dei poligoni**
- ▶ **Perimetro di figure piane**
- ▶ **Introduzione alla misurazione dell'area**
- ▶ **Figure solide**
- ▶ **Uso delle unità di misura nei problemi (lunghezza, peso, capacità, tempo)**

Nel libro troverai:

- una storia con tante attività legate al problem solving
- una mappa con gli ambienti da esplorare
- una griglia dei sospettati
- un foglio con gli adesivi



**... E I PROBLEMI
NON AVRANNO
PIÙ SEGRETI
PER TE!**



€ 9,90



www.ericson.it

TUTTO È PRONTO ALL'HOTEL DE TENEBRIS PER IL GRAN GALÀ OSCURO. LE LUCI SONO SOFFUSE, I TAVOLI SONO PRONTI... EPPURE, TRA LE OMBRE, QUALCUNO SEMBRA UN PO' AGITATO.

SPARITO! È PROPRIO SPA-RI-TO! HO CERCATO OVUNQUE, MA NON C'È TRACCIA DEL MIO PREZIOSISSIMO AMULETO LUNARE... QUALCUNO DEVE AVERLO RUBATO!!!

NON SI PREOCCUPI CONTESSA LADA, SONO CERTA CHE C'È UNA SPIEGAZIONE...

ACCIDERBOLINA! CHI MAI SARÀ STATO? ANDIAMO ASSIEME A LUPO A SETACCIARE L'ALBERGO A CACCIA DI INDIZI!



GUARDA, SUGLI APPENDIABITI CLEOPATRA HA APPOGGIATO LE SUE PREGIATISSIME BENDE DA SERA... OSSERVIAMOLE CON ATTENZIONE, SONO DAVVERO AFFASCINANTI...

RISOLVI LE MOLTIPLICAZIONI, COME NELL'ESEMPIO!



45×3

1

4 5 ×

3

1 3 5

64×4

6 4 ×

4

— — —

33×9

3 3 ×

9

— — —

59×3

— — ×

—

— — —

28×6

2 8 ×

6

— — —

71×8

— — ×

—

— — —

52×7

— — ×

—


— — —




EHI! C'È SQUAT MANNARO CHE SI STA ALLENANDO ASSIEME AI SUOI SOCI! CASPITA, CHE ALLENAMENTO DURO HA PROPOSTO TROG...

AIUTATI SCOMPONENDO I NUMERI E SCOPRI QUANTO STA SOLLEVANDO OGNI COPPIA DI LUPI!

$$34 + 46$$




$$51 + 25$$




$$65 + 16$$



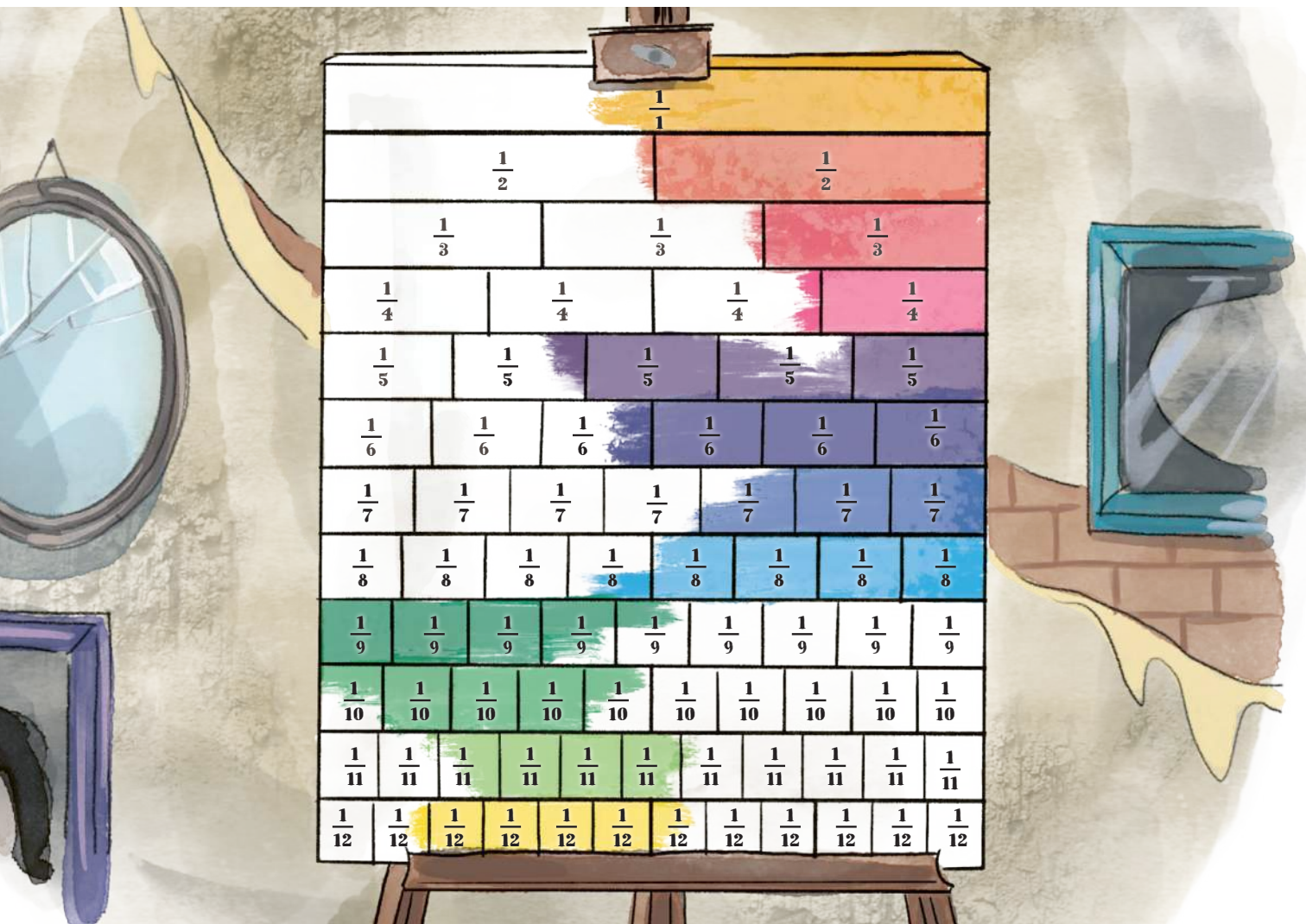
$$25 + 36$$





GUARDA CHE MERAVIGLIA QUESTO QUADRO DEL FAMOSISSIMO PITTORE HENRI MORTISSE! PURTROPPO L'UMIDITÀ LO HA SCOLORITO... TI ANDREBBE DI AIUTARCI A DARGLI UNA RESTAURATA CON I TUOI PASTELLI?

COMPLETA IL QUADRO CON I COLORI INDICATI!



► COMPLETA I CONFRONTI INSERENDO I SIMBOLI MAGGIORE, MINORE E UGUALE.

$$\frac{1}{4} \square \frac{3}{4}$$

$$\frac{3}{5} \square \frac{2}{5}$$

$$\frac{4}{10} \square \frac{5}{10}$$

$$\frac{4}{9} \square \frac{3}{9}$$

$$\frac{5}{6} \square \frac{5}{9}$$

$$\frac{4}{10} \square \frac{4}{4}$$

$$\frac{8}{9} \square \frac{8}{11}$$

$$\frac{2}{3} \square \frac{3}{6}$$



C'È ANCHE MANNY, IL FATTORINO. STA RIORDINANDO LE SCATOLE CON LE TOVAGLIE REALIZZATE DALLE TARANTOLE TESSITRICI... CHE BELLE SGUALCITE!


MANNY STA RIORDINANDO LE SCATOLE DELLE TOVAGLIE.



FILE: 3

FILE: 3		
4	4	4

TOTALE SCATOLE?



QUANTE SCATOLE CI SONO IN TUTTO? _____

POI MANNY CHIEDE AIUTO A DEI TROLL PER PORTARE LE POSATE IN SALA.

?	?	?	?	?	?
---	---	---	---	---	---

TOTALE POSATE: 18



QUANTE POSATE RICEVE OGNI TROLL? _____

INDIZIO 7

HAI NOTATO L'ETICHETTA SULLA SCATOLA? POTREBBE ESSERE IL **SETTIMO INDIZIO!** CERCALO NEGLI STICKERS, GUARDA NELLE PAGINE 2 E 3 CHI TRA I SOSPETTATI HA QUESTO OGGETTO E INCOLLALO NEL FOGLIO DELLA **RACCOLTA INDIZI!**



